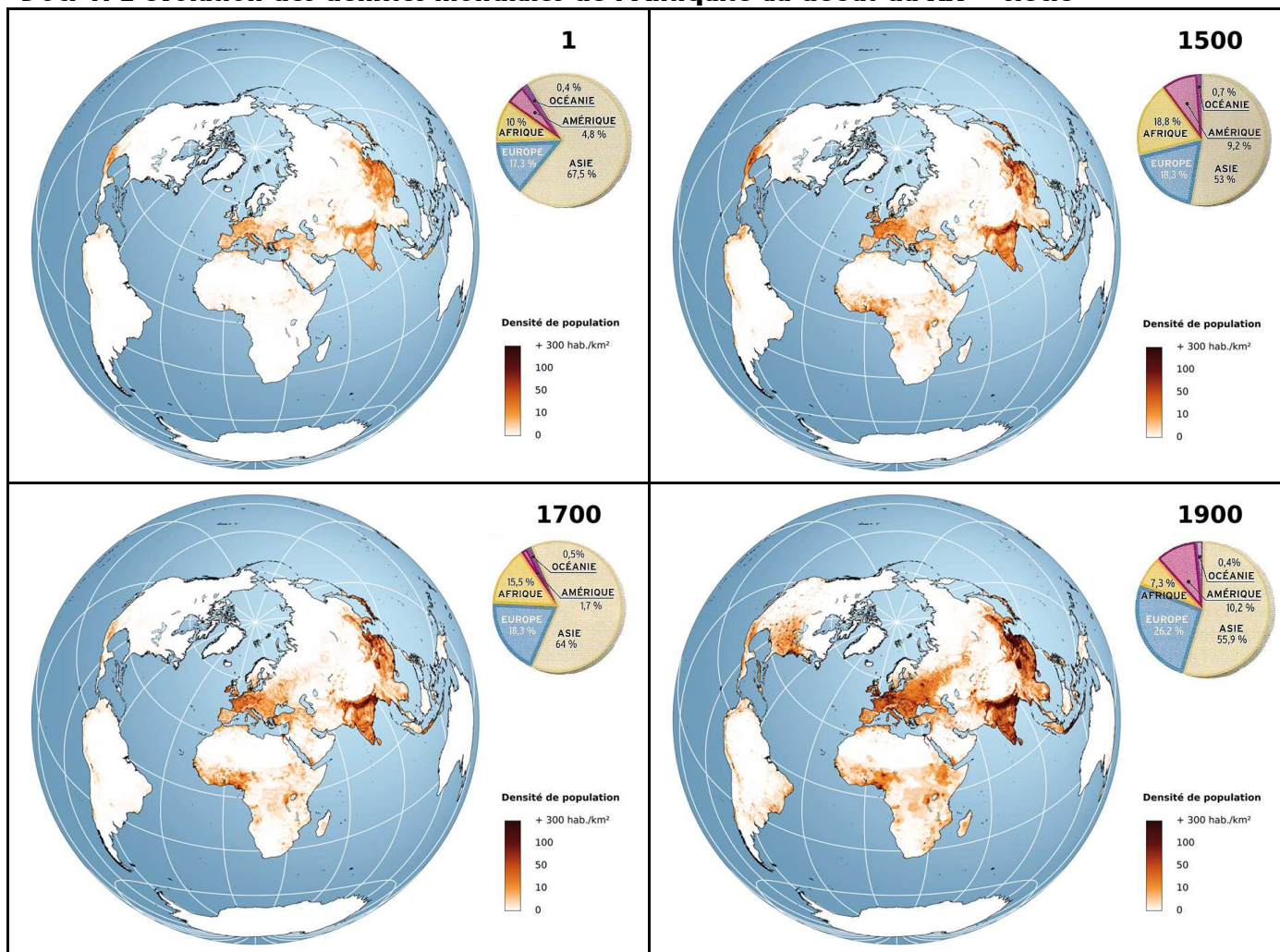
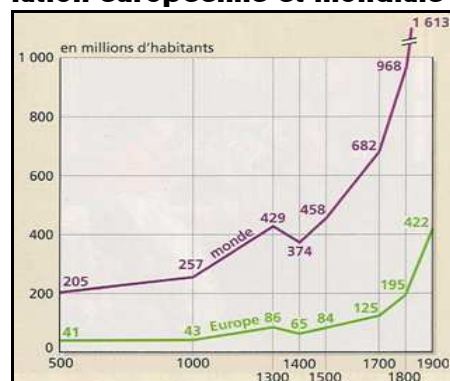


# LA PLACE DES EUROPEENS DANS LE PEUPEMENT DE LA TERRE

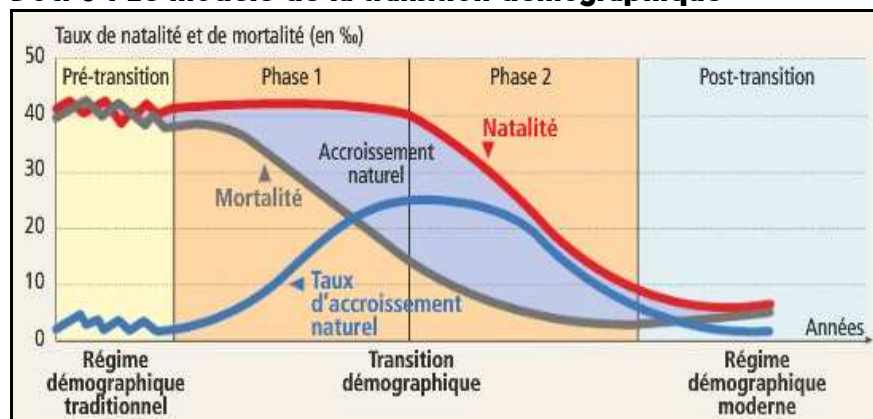
## Doc. 1 : L'évolution des densités mondiales de l'Antiquité au début du XX<sup>ème</sup> siècle



## Doc. 2 : Evolution de la population européenne et mondiale



## Doc. 3 : Le modèle de la transition démographique



### Questions

1. Situez les régions du monde les plus peuplées à chaque époque. (doc. 1)
2. Comment évolue la part des Européens dans la population mondiale à chaque époque ? (doc. 1)
3. Comment évoluent les populations mondiale et européenne de 500 à 1400 ? (doc. 2)
4. Calculez le coefficient multiplicateur des deux courbes entre 500 et 1400. Qu'en déduisez-vous ? (doc. 2)
5. Quels facteurs permettent d'expliquer la faible croissance de la population européenne ? (doc. 3)
6. Quel changement majeur se produit pour la population européenne et mondiale après 1400 ? (doc. 2)
7. Calculer le coefficient multiplicateur des deux courbes entre 1400 et 1900. Qu'en déduisez-vous ? (doc. 2)
8. Quel rôle joue la mortalité dans l'évolution démographique européenne observée à la question 6 ? (doc. 3)
9. Quel rôle joue la natalité dans l'évolution démographique européenne observée à la question 6 ? (doc. 3)