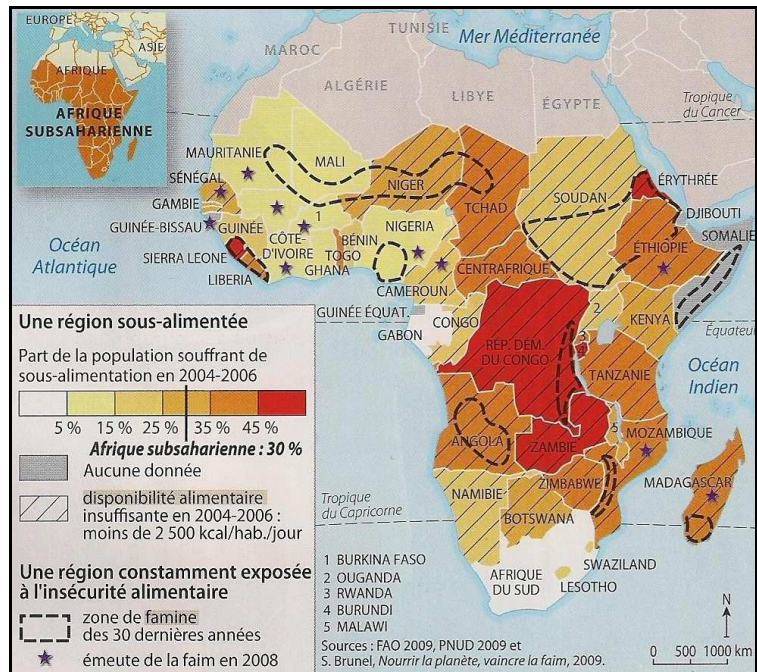


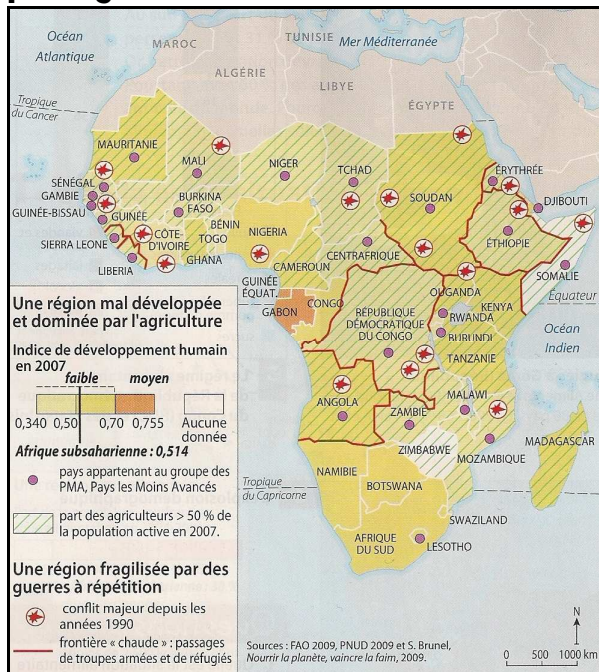
CROQUIS DE GEOGRAPHIE

SUJET : LES PROBLEMES ALIMENTAIRES EN AFRIQUE SUBSAHARIENNE

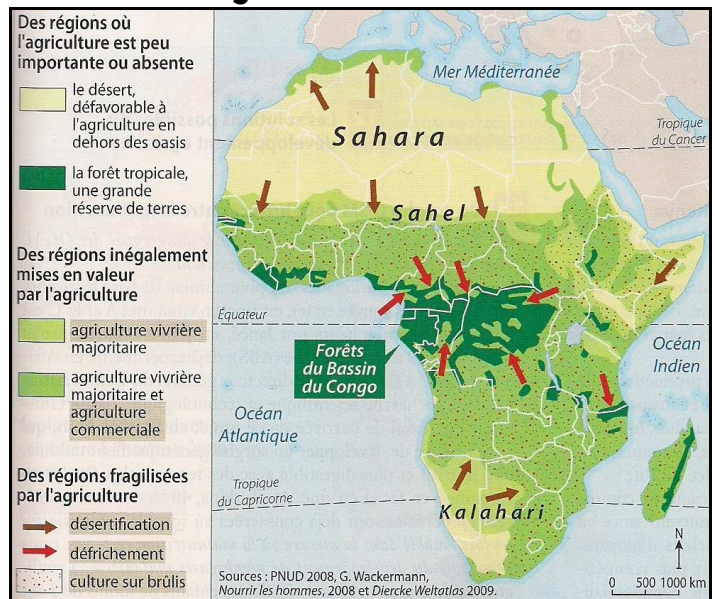
Doc. 1 : L'Afrique subsaharienne, la région la plus sous-alimentée au monde



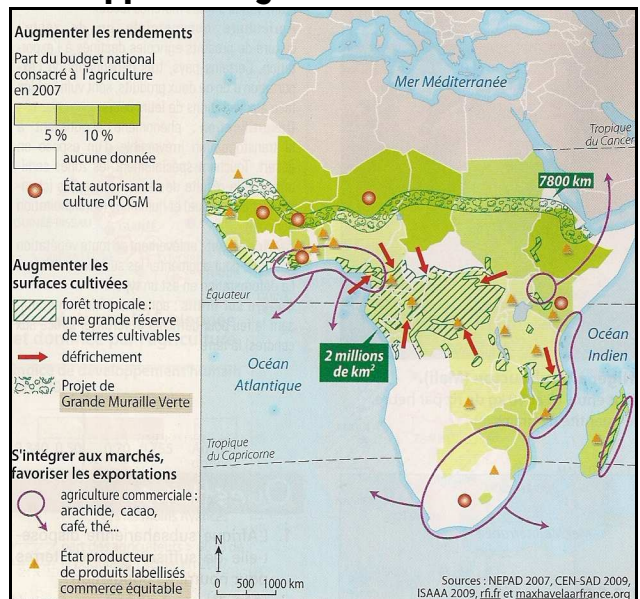
Doc. 2 : Un sous-continent en crise dominé par l'agriculture



Doc. 3 : En Afrique subsaharienne, une inégale mise en valeur agricole



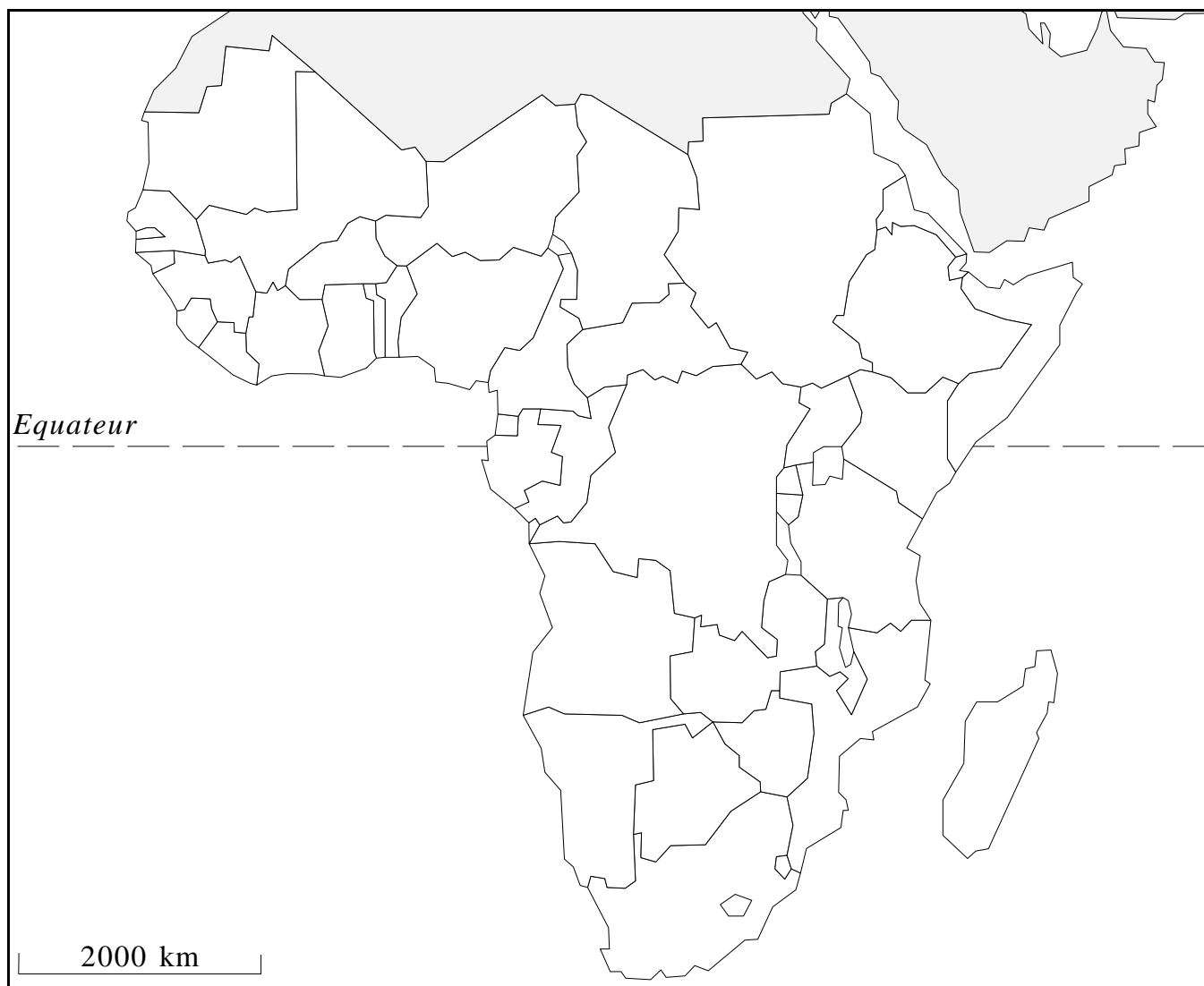
Doc. 4 : Quelques solutions pour le développement agricole



Quelques conseils

1. Comparez attentivement la légende du croquis que vous avez à compléter avec la légende des quatre documents supports constituant le sujet. Repérez quelles informations vous devez garder et éliminer dans les quatre documents supports.
2. Choisissez un figuré et une couleur appropriés pour dessiner les éléments mentionnés dans la légende (vous pouvez conserver certains figurés et certaines couleurs issus des quatre documents supports mais d'autres devront être nécessairement modifiés).
3. Réalisez proprement votre croquis en respectant l'ordre suivant : ① figurés zonaux, ② figurés ponctuels et ③ figurés linéaires.
4. Achevez votre croquis en plaçant la nomenclature (en respectant bien les règles vues en cours).

TITRE : _____



A. En Afrique subsaharienne, une situation alimentaire alarmante

- Zone de famine dans les 30 dernières années
- Pays où plus de 25% de la population est sous-alimentée
- Pays où moins de 25% de la population est sous-alimentée
- Aucune donnée concernant la part des populations sous-alimentées

B. Un contexte politique et socio-économique défavorable

- Pays appartenant au groupe des PMA
- Principal conflit dans les années 1990
- Désertification

C. Des efforts réalisés afin résoudre le problème de la faim

- Projet de « Grande muraille verte »
- Pays dont plus de 5% du budget national est consacré à l'agriculture
- Agriculture vivrière majoritaire